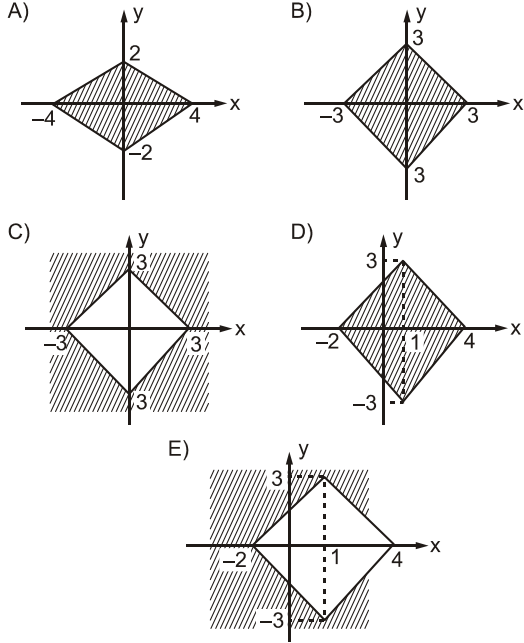


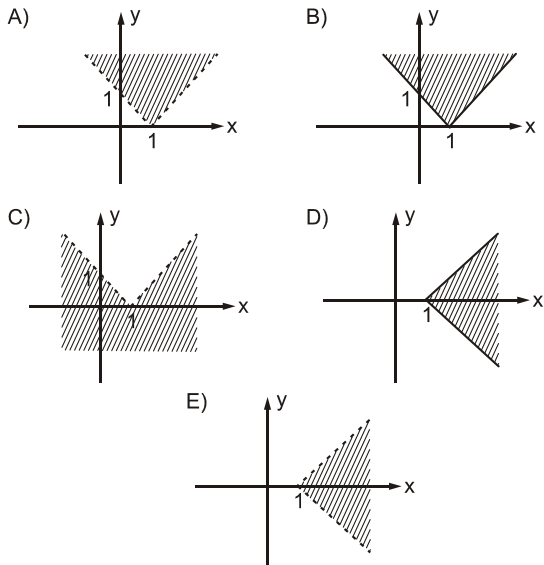
1. $|x-1|+|y|\leq 3$

bağıntısının grafiği aşağıdakilerden hangisidir?

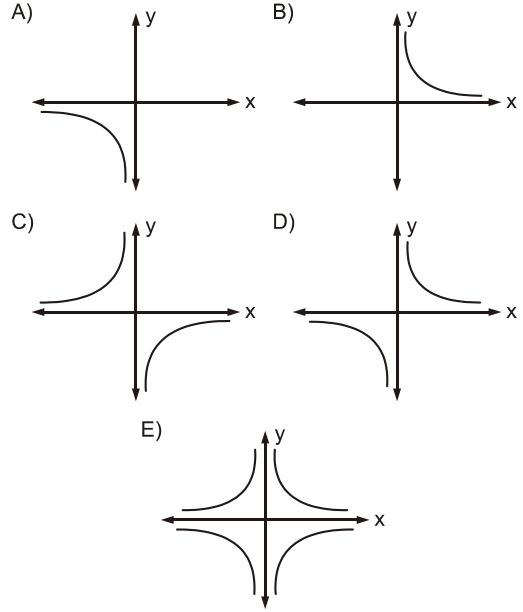


2. $y > |x-1|$

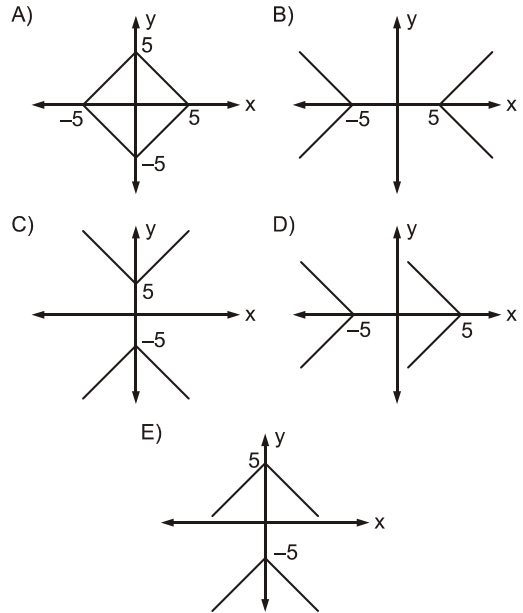
eşitsizliğinin grafiği aşağıdakilerden hangisidir?



3. $|xy| = 3$ bağıntısının grafiği aşağıdakilerden hangisidir?



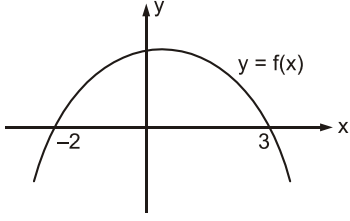
4. $|x| + |y| = 5$ bağıntısının grafiği aşağıdakilerden hangisidir?



5. $|x| + |y| < 11$ ifadesini sağlayan kaç tane (x, y) tamsayı ikilisi vardır?

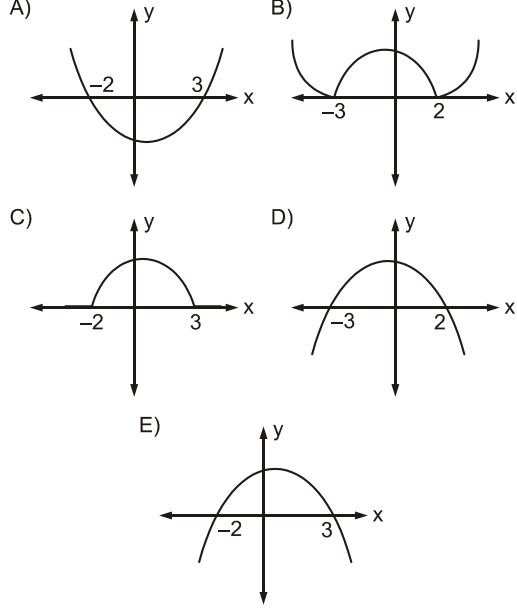
- A) 100 B) 175 C) 204 D) 221 E) 225

6.

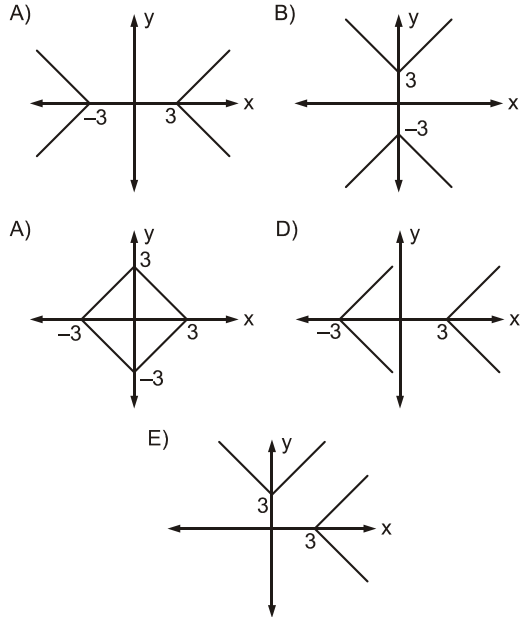


Şekilde $y = f(x)$ fonksiyonunun grafiği verilmiştir.

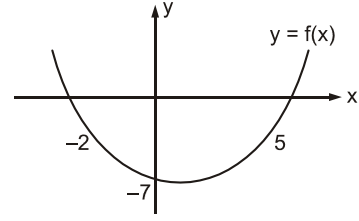
Buna göre $y = \frac{|f(x)| + f(x)}{2}$ fonksiyonunun grafiği aşağıdakilerden hangisidir?



7. $|y| - |x| = 3$ ifadesinin grafiği aşağıdakilerden hangisidir?

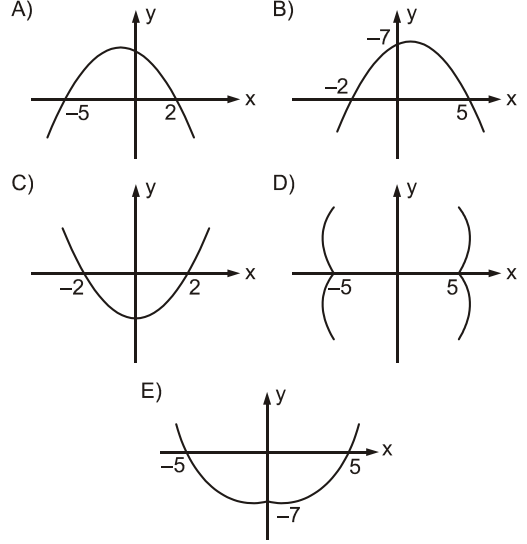


8.

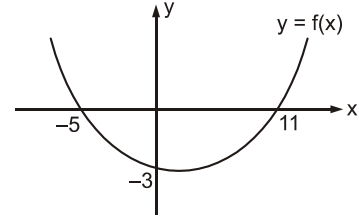


Şekilde $y = f(x)$ fonksiyonunun grafiği veriliyor.

Buna göre $y = f(|x|)$ fonksiyonunun grafiği aşağıdakilerden hangisidir?

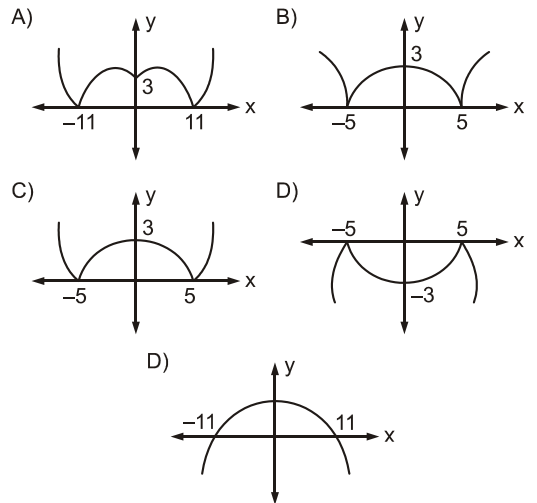


9.



Şekilde $y = f(x)$ fonksiyonunun grafiği verilmiştir.

Buna göre $y = |-f(|x|)|$ fonksiyonunun grafiği aşağıdakilerden hangisidir?



GEBÖS YAYINLARI

GEBÖS YAYINLARI

1.D

2.A

3.E

4.A

5.D

6.C

7.B

8.E

9.A